


5. Vyberte správnou odpověď.

- a) Vědní obor, který se zabývá studiem plazů, se nazývá:
ornitologie / herpetologie / entomologie.
- b) Největší rozvoj plazů nastal:
v druhohorách / ve třetihorách / ve čtvrtohorách.
- c) Současní plazi nežijí:
ve vodě / ve vzduchu / na souši.



6. Pojmenujte plazy na obrázcích, zařad'te je do řádů, případně i podřádů. Připište další zástupce a hlavní znaky příslušné skupiny plazů.



Druh:

Řád:

Další zástupci:

.....

Znaky:

.....



Druh:


Řád:

Další zástupci:

.....

Znaky:

.....



Druh:


Řád:

Další zástupci:

.....

Znaky:

.....



Druh:

Řád:

Další zástupci:

.....

Znaky:

.....

Poznámky:

